







À CHACUNE SES PÉTALES !







Consigne : écrire le nombre de pétales de chaque fleur dans le cadre vide en suivant les indications du tableau.

La pensée a 5 pétales.	<input type="text"/>	
Le tournesol a 11 fois plus de pétales que la pensée.	<input type="text"/>	
La rudbeckie à œil noir a 34 pétales de moins que le tournesol.	<input type="text"/>	
Une brassica a 17 pétales de moins qu'une rudbeckie à œil noir.	<input type="text"/>	
Un bouton d'or a autant de pétales que la pensée.	<input type="text"/>	
L'orchidée a 2 pétales de moins que le bouton d'or.	<input type="text"/>	

Question : quelle fleur a le plus de pétales ? _____

À CHACUNE SES PÉTALES !

Solutions

La pensée a 5 pétales.	5	
Le tournesol a 11 fois plus de pétales que la pensée.	55	
La rudbeckie à œil noir a 34 pétales de moins que le tournesol.	21	
Une brassica a 17 pétales de moins qu'une rudbeckie à œil noir.	4	
Un bouton d'or a autant de pétales que la pensée.	5	
L'orchidée a 2 pétales de moins que le bouton d'or.	3	

Question : quelle fleur a le plus de pétales ? Le tournesol